

## Kreis - Übungen

Wenn die "Kreisgleichung" gesucht ist, sind der Mittelpunkt und der Radius anzugeben. Es ist möglich, dass mehrere Kreise eine Aufgabenstellung erfüllen.

- 1) Ein Kreis berührt die y-Achse {Punkt **A**} und geht durch die Punkte **B**(3|7) und **C**(6|4).  
Gesucht: Kreisgleichung
- 2) Ein Kreis enthält einen Punkt **A** auf der y-Achse und geht durch die Punkte **B**(3|7) und **C**(6|4). Gesucht: Kreisgleichung
- 3) Ein Kreis berührt die y-Achse {Punkt **A**} und die x-Achse {Punkt **B**} und geht durch den Punkt **C**(2|4). Gesucht: Kreisgleichung
- 4) Kreis mit **M**(0|5),  $r = 5$ .
  - a) Gleichung der Tangente am Punkt **P**(3|1)?
  - b) An welchem Punkt ist die Tangente  $\mathbf{x} \cdot \binom{4}{3} = 40$ ?
- 5) Eine Gerade geht von **Q**(2|6) an den Kreis mit **M**(4|8),  $r = 2$ . Welchen Punkt erreicht man, wenn man vom Berührungspunkt **P** in gleicher Richtung denselben Betrag  $|\overline{QP}|$  weitergeht? {Zuerst mit einer Skizze lösen, dann rechnerisch über die Polare}
- 6) Eine Gerade geht von **Q**(2|4) an den Kreis mit **M**(6|8),  $r = 2$ . Gesucht: Berührungspunkte, Polare, Tangenten. (Kommazahlen erlaubt)
- 7) Kreis 1: **M**(2|4),  $r = 3$ . Kreis 2: **M**(3|5),  $r = 2$ . Gesucht: a) Schnittfläche, b) Schnittpunkte.
- 8) Gegeben ist ein Kreis mit **M**(4|-3),  $r = 2$  und ein Punkt von **P**(3|-5). Welche Schnittfläche liefert eine Parallele zur Verbindungslinie  $\overline{PM}$ , die durch **P'**(5|1) geht?

### 1)

Die y-Achse ist am Punkt **A** eine Tangente an den Kreis. Mit dem noch nicht bekannten "Zwischenwert"  $z$  ist **A**(0| $z$ ). Weil  $\overline{AM}$  senkrecht auf der y-Achse steht, hat auch **M** diese y-Koordinate, und weil  $|\overline{AM}| = r$  ist die x-Koordinate  $r$ . Also: **M**( $r$ | $z$ ).

Bekannt: **B**(3|7), **C**(6|4).

Für die drei Punkte gilt die Kreisgleichung  $(\mathbf{x} - \mathbf{m})^2 = r^2$ .

$$\mathbf{A}: \begin{pmatrix} 0 - r \\ z - z \end{pmatrix}^2 = \begin{pmatrix} r \\ 0 \end{pmatrix}^2 = r^2 \Rightarrow r^2 = r^2$$

$$\mathbf{B}: \begin{pmatrix} 3 - r \\ 7 - z \end{pmatrix}^2 \Rightarrow z^2 - 14z - 6r + 58 = 0$$

$$\mathbf{C}: \begin{pmatrix} 6 - r \\ 4 - z \end{pmatrix}^2 \Rightarrow z^2 - 8z - 12r + 52 = 0$$

$$\text{"B - C": } -6z + 6r + 6 = 0 \rightarrow r = z - 1$$

$$\text{Eingesetzt in "B": } z^2 - 20z + 64 = 0 \rightarrow z = 10 \pm 6.$$

$$z = 4 \rightarrow r = 3 \rightarrow \mathbf{A}(0|4); \mathbf{M}(3|4).$$

$$z = 16 \rightarrow r = 15 \rightarrow \mathbf{A}(0|16); \mathbf{M}(15|16).$$

Lösungen zu

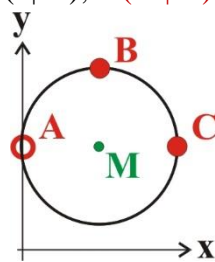
$$z = 4 / r = 3$$

$$z = 16 / r = 15$$

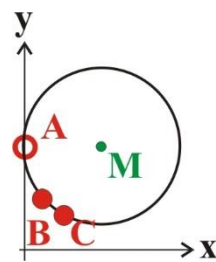
Gleichbleibend

$$\mathbf{B}(3|7)$$

$$\mathbf{C}(6|4)$$



**A**(0|4); **M**(3|4)



**A**(0|16); **M**(15|16)

Beachten: In den beiden Skizzen ist die Skalierung der Achsen verschieden!

## 2)

Allgemeiner als 1). Der Punkt **A** kann ein Berührungspunkt oder ein Schnittpunkt sein! 1) muss dann ein Spezialfall der Lösung 2) sein.

Sofort kann angegeben werden: **A**(0|z) - mit dem unbekanntem "Zwischenwert" z. Für den Kreismittelpunkt sei **M**(m<sub>1</sub>|m<sub>2</sub>).

Bekannt: **B**(3|7), **C**(6|4).

$$(\mathbf{x} - \mathbf{m})^2 = r^2. \text{ (Kreis durch 3 Punkte)}$$

$$\text{Für A: } \begin{pmatrix} 0 - m_1 \\ z - m_2 \end{pmatrix}^2 = m_1^2 + z^2 - 2 z m_2 + m_2^2 = r^2$$

$$\text{Für B: } m_1^2 + m_2^2 - 6 m_1 - 14 m_2 + 58 = r^2$$

$$\text{Für C: } m_1^2 + m_2^2 - 12 m_1 - 8 m_2 + 52 = r^2$$

Die Differenz der Gleichungen für **B** und **C** ( $6 m_1 - 6 m_2 + 6 = 0$ ) liefert  $m_1 = m_2 - 1$ .

Setzt man das in die Differenz der Gleichungen für **A** und **B** ein, erhält man

$$m_2 = \{z^2 - 64\} / \{2 z - 20\}$$

$$m_1 = \{z^2 - 2 z - 44\} / \{2 z - 20\}$$

$$r^2 = \{z^4 - 22 z^3 + 222 z^2 - 1192 z + 3016\} / \{2 (z - 10)^2\}$$

Allgemein schneidet der Kreis die y-Achse im Punkt **A**.

In 2 Sonderfällen für z liegen **A** und **M** auf einer Parallelen zur x-Achse; y-Koordinate von **A** und **M** gleich: **A**(0|z) und **M**(m<sub>1</sub>|z).

$$\text{Aus } m_2 = z: z \{2 z - 20\} = \{z^2 - 64\} \rightarrow z^2 - 20 z + 64 = 0 \rightarrow z = 10 \pm 6; z = 4; 16.$$

## 3)

Wie bei 1) kann für die Punkte auf den Achsen sofort angegeben werden: **A**(0|z) und **B**(z'|0).

Der Mittelpunkt ist dann **M**(z'|z). Weil  $|\overline{AM}| = |\overline{BM}| = r$  ist  $z = z' = r$ .

Damit: **A**(0|r), **B**(r|0), **M**(r|r). (Siehe dazu die Anmerkung unten)

Einsetzen in  $(\mathbf{x} - \mathbf{m})^2 = r^2$ :

$$\text{A: } \begin{pmatrix} 0 - r \\ r - r \end{pmatrix}^2 \Rightarrow r^2 = r^2$$

$$\text{B: } \begin{pmatrix} r - r \\ 0 - r \end{pmatrix}^2 \Rightarrow r^2 = r^2$$

$$\text{C: } \begin{pmatrix} 2 - r \\ 4 - r \end{pmatrix}^2 \Rightarrow r^2 - 12 r + 20 = 0 \rightarrow r = 6 \pm 4$$

$$r = 2: \quad \text{A}(0|2); \quad \text{B}(2|0); \quad \text{M}(2|2)$$

$$r = 10: \quad \text{A}(0|10); \quad \text{B}(10|0); \quad \text{M}(10|10)$$

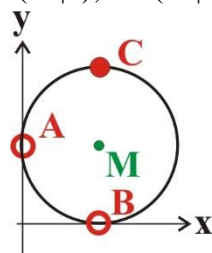
Lösungen zu

$$r = 2$$

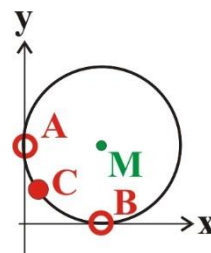
$$r = 10$$

Gleichbleibend

$$\text{C}(2|4)$$



$$\text{A}(0|2); \text{B}(2|0); \text{M}(2|2)$$



$$\text{A}(0|10); \text{B}(10|0); \text{M}(10|10)$$

**Beachten: In den beiden Skizzen ist die Skalierung der Achsen verschieden!**

Anmerkung:

Die Koordinaten von **A**, **B**, **M** können auch über die Tangentenbedingung erhalten werden.

(Einsetzen der Geradengleichung in die Kreisgleichung)

y-Achse:  $g: x = 0$ ; eingesetzt in  $(x - m_1)^2 + (y - m_2)^2 = r^2$

**P**(x|y) ist dann der Berührungspunkt der Tangente.

$$m_1^2 + y^2 - 2 y m_2 + m_2^2 = r^2 \rightarrow y_{1,2} = m_2 \pm \sqrt{-m_1^2 + r^2}$$

Weil für die Tangente nur 1 y-Wert möglich ist, ist  $-m_1^2 + r^2 = 0 \rightarrow m_1 = \pm r$

$y = m_2$  (gilt für Berührungspunkt **A**)

x-Achse:  $g: y = 0$

$$x^2 - 2 m_1 x + m_1^2 + m_2^2 = r^2 \rightarrow x_{1,2} = m_1 \pm \sqrt{-m_2^2 + r^2}$$

$$-m_2^2 + r^2 = 0 \rightarrow m_2 = \pm r$$

$x = m_1$  (gilt für Berührungspunkt **B**).

Kombiniert sind das 4 Möglichkeiten: **A**(0|±r), **B**(±r|0), **M**(±r|±r)

Jeweils 1 Berührungskreis in einem Quadranten. Davon wurde vorher wegen der Lage von **C** nur der Kreis im 1. Quadranten ausgewählt.

#### 4)

Tangente:  $(\mathbf{x} - \mathbf{m}) \cdot (\mathbf{p} - \mathbf{m}) = r^2$

$$(\mathbf{x} - \mathbf{p}) \cdot (\mathbf{p} - \mathbf{m}) = 0$$

$$y = k x + c; k = -\Delta x / \Delta y \{ -(x_P - x_M) / (y_P - y_M) \}; c = y_P - k x_P$$

a)  $(\mathbf{x} - \mathbf{m}) \cdot (\mathbf{p} - \mathbf{m}) = [ \mathbf{x} - \begin{pmatrix} 0 \\ 5 \end{pmatrix} ] \cdot [ \begin{pmatrix} 3 \\ 1 \end{pmatrix} - \begin{pmatrix} 0 \\ 5 \end{pmatrix} ] = \mathbf{x} \begin{pmatrix} 3 \\ -4 \end{pmatrix} + 20 = 25 \rightarrow \mathbf{x} \begin{pmatrix} 3 \\ -4 \end{pmatrix} = 5$

$$(\mathbf{x} - \mathbf{p}) \cdot (\mathbf{p} - \mathbf{m}) = [ \mathbf{x} - \begin{pmatrix} 3 \\ 1 \end{pmatrix} ] \cdot [ \begin{pmatrix} 3 \\ 1 \end{pmatrix} - \begin{pmatrix} 0 \\ 5 \end{pmatrix} ] = \mathbf{x} \begin{pmatrix} 3 \\ -4 \end{pmatrix} - 5 = 0 \rightarrow \mathbf{x} \begin{pmatrix} 3 \\ -4 \end{pmatrix} = 5$$

als Koordinatengleichung:  $3x - 4y = 5 \rightarrow y = 3/4 x - 5/4$

$$k = - (3 - 0) / (1 - 5) = 3/4; c = 1 - 3/4 \cdot 3 = -5/4 \rightarrow y = 3/4 x - 5/4$$

b)  $\mathbf{x} \begin{pmatrix} 4 \\ 3 \end{pmatrix} = 40$ ; Vergleich:  $\mathbf{x} \cdot (\mathbf{p} - \mathbf{m}) = \mathbf{m} \cdot (\mathbf{p} - \mathbf{m}) + r^2$

$$\mathbf{p} = \begin{pmatrix} 4 \\ 3 \end{pmatrix} + \begin{pmatrix} 0 \\ 5 \end{pmatrix} = \begin{pmatrix} 4 \\ 8 \end{pmatrix}$$

eventuell Kontrolle:  $\begin{pmatrix} 0 \\ 5 \end{pmatrix} \cdot \begin{pmatrix} 4 \\ 3 \end{pmatrix} + r^2 = 15 + 25 = 40$

Umständlicher - über Koordinatengleichung:

$$4x + 3y = 40 \rightarrow y = -4/3 x + 40/3; \text{ in Kreisgleichung eingesetzt}$$

$$x^2 + (-4/3 x + 40/3 - 5)^2 = 25 \rightarrow (25 x^2 - 200 x + 400) / 9 = 0$$

$$\rightarrow x^2 - 8 x + 16 = 0 \rightarrow x = 4 \text{ (richtig - nur 1 Nullstelle!)}$$

$$y = -16/3 + 40/3 = 8 \rightarrow \mathbf{P}(4|8)$$

#### 5)

**Zuerst: Ohne lange Rechnung!**

Wegen  $r = 2$  sind die beiden Berührungspunkte

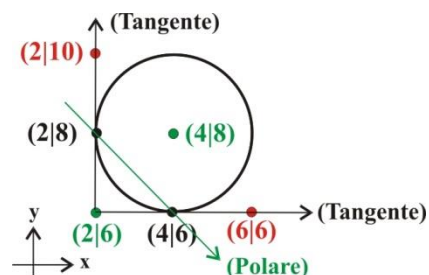
$\mathbf{P}_1(2|8)$  und  $\mathbf{P}_2(4|6)$ .

(Die Polare geht durch die beiden Berührungspunkte)

Die Tangenten sind Parallelen zur x- bzw. y-Achse.

"Lösungspunkte": In doppelter Entfernung von **Q**

$\mathbf{L}_1(2|10)$  und  $\mathbf{L}_2(6|6)$



#### Rechenverfahren:

1. Berechnung der Polaren mit  $g: (\mathbf{x} - \mathbf{m}) \cdot (\mathbf{q} - \mathbf{m}) = r^2$

**q** Pol

**x** laufender Punkt der Polaren (= Gerade durch die beiden Berührungspunkte)

2. Einsetzen von  $g$  in die Kreisgleichung  $(\mathbf{x} - \mathbf{m})^2 = r^2$

**x** allgemeiner Punkt auf dem Kreis, nach dem Einsetzen von  $g$  die beiden Berührungspunkte

(Aus dem Pol und den Berührungspunkten kann jeweils die Tangente berechnet werden.)

### 3. Weitere Punkte auf den Tangenten

Die Tangenten zu den Berührungspunkte  $\mathbf{P}_{1,2}$  sind  $t_{1,2}: \mathbf{x} = \mathbf{q} + \lambda (\mathbf{p}_{1,2} - \mathbf{q})$

Die Lösungspunkte sind  $\mathbf{l}_{1,2} = \mathbf{q} + 2 (\mathbf{p}_{1,2} - \mathbf{q})$

1.  $\mathbf{x} \cdot (\mathbf{q} - \mathbf{m}) - \mathbf{m} \cdot (\mathbf{q} - \mathbf{m}) - r^2 = 0$

$$\mathbf{q} - \mathbf{m} = \begin{pmatrix} 2 \\ 6 \end{pmatrix} - \begin{pmatrix} 4 \\ 8 \end{pmatrix} = \begin{pmatrix} -2 \\ -2 \end{pmatrix}$$

$$\begin{pmatrix} x \\ y \end{pmatrix} \cdot \begin{pmatrix} -2 \\ -2 \end{pmatrix} - \begin{pmatrix} 4 \\ 8 \end{pmatrix} \cdot \begin{pmatrix} -2 \\ -2 \end{pmatrix} - 2^2 = 0 \rightarrow -2x - 2y + 8 + 16 - 4 = 0$$

$\rightarrow y = -x + 10$  (das ist die Polare)

2.  $(x - 4)^2 - [(10 - x) - 8]^2 = 4 \rightarrow x^2 - 6x + 8 = 0 \rightarrow x_{1,2} = 2; 4$

$$\rightarrow \mathbf{p}_1 = \begin{pmatrix} 2 \\ 8 \end{pmatrix}; \mathbf{p}_2 = \begin{pmatrix} 4 \\ 6 \end{pmatrix}$$

(Die Tangenten sind  $t_1: x = 2$  {Parallele zur y-Achse} und  $t_2: y = 6$  {Parallele zur x-Achse})

3.  $\mathbf{p}_1 - \mathbf{q} = \begin{pmatrix} 0 \\ 2 \end{pmatrix} \rightarrow \mathbf{l}_1 = \begin{pmatrix} 2 \\ 10 \end{pmatrix}; \mathbf{p}_2 - \mathbf{q} = \begin{pmatrix} 2 \\ 0 \end{pmatrix} \rightarrow \mathbf{l}_2 = \begin{pmatrix} 6 \\ 6 \end{pmatrix}$

### 6)

1.  $\mathbf{x} \cdot (\mathbf{q} - \mathbf{m}) - \mathbf{m} \cdot (\mathbf{q} - \mathbf{m}) - r^2 = 0$

$$\mathbf{q} - \mathbf{m} = \begin{pmatrix} 2 \\ 4 \end{pmatrix} - \begin{pmatrix} 6 \\ 8 \end{pmatrix} = \begin{pmatrix} -4 \\ -4 \end{pmatrix}$$

$$\begin{pmatrix} x \\ y \end{pmatrix} \cdot \begin{pmatrix} -4 \\ -4 \end{pmatrix} - \begin{pmatrix} 6 \\ 8 \end{pmatrix} \cdot \begin{pmatrix} -4 \\ -4 \end{pmatrix} - 3^2 = 0 \rightarrow -4x - 4y + 24 + 32 - 9 = 0 \rightarrow -4x - 4y + 47 = 0$$

$\rightarrow y = -x + 47/4$  bzw.  $y = -x + 11,75$  (Polare)

2.  $(x - 6)^2 - [(11,75 - x) - 8]^2 = 9 \rightarrow x^2 - 12x + 36 + x^2 - 7,50x + 14,07 - 9 = 0$

$$2x^2 - 19,50x + 41,07 = 0 \rightarrow x_{1,2} = 3,08; 6,67 \rightarrow y_{1,2} = 8,67; 5,08$$

$\rightarrow \mathbf{P}_1(3,08 | 8,67); \mathbf{P}_2(6,67 | 5,08)$  (Berührungspunkte)

### 3. Tangente 1

$$k = (8,67 - 4) / (3,08 - 2) = 4,34; c = 4 - 4,32 \cdot 2 = -4,68; t_1: y = 4,34x - 4,68$$

Tangente 2

$$k = (5,08 - 4) / (6,67 - 2) = 0,23; c = 4 - 0,23 \cdot 2 = 3,54; t_2: y = 0,23x + 3,54$$

(Zahlenangaben mit 2 Nachkommastellen; gerechnet: ungerundet)

### 7a)

Zur Bestimmung der Schnittfläche sind nur  $r_1, r_2$  und  $d$  (Abstand Kreismittelpunkte) wichtig. (Wie die gesamte Anordnung gedreht ist, spielt erst bei der Berechnung der Schnittpunkte eine Rolle.)

$$r_1 = 3; r_2 = 2; \mathbf{M}_1(2|4), \mathbf{M}_2(3|5) \rightarrow d^2 = (3-2)^2 + (5-4)^2 = 2 \rightarrow d = \sqrt{2}$$

$$\text{Schnittpunkt x-Koordinate: } s = \{r_1^2 - r_2^2 + d^2\} / 2d = \{9-4+2\} / 2\sqrt{2} = (7/4) \sqrt{2} (\approx 2,475)$$

$$\text{Öffnungswinkel 1: } \alpha_1 = 2 \arccos(s/r_1) = 1,201 \text{ (rad!)}$$

$$\text{Segment 1: } A_1 = r_1^2 [\alpha_1 - \sin(\alpha_1)] / 2 = 1,21$$

$$\alpha_2 = 2 \arccos(|d-s|/r_2) = 2,02; A_2 = 2,25$$

**Schnittfläche** =  $A_1 + A_2 = 3,46$  (z.B. in  $\text{cm}^2$ , wenn Koordinaten in cm)

### 7b)

In 7a) wurde eine spezielle Anordnung betrachtet - beide Kreismittelpunkte auf der x-Achse. Man kann auch die y-Koordinaten der beiden Schnittpunkte berechnen und anschließend das Koordinatensystem in das Originalsystem transformieren (siehe unten als Beispiel).

Der Standardweg berechnet den Schnitt beider Kreise im Original-Koordinatensystem.

$$k_1: (x - 2)^2 + (y - 4)^2 = 9 \rightarrow x^2 + y^2 - 4x - 8y + 11 = 0$$

$$k_2: (x - 3)^2 + (y - 5)^2 = 4 \rightarrow x^2 + y^2 - 6x - 10y + 30 = 0$$

$$\text{Differenz: } 2x + 2y - 19 = 0$$

$$\text{Schnittgerade: } g_S: y = -x + 19/2$$

$$g_S \text{ in } k_1: x^2 - (15/2)x + 101/8 = 0 \rightarrow x_{1,2} = 15/4 \pm \sqrt{23}/4 (\approx 4,95; 2,55)$$

$$y_1 = -15/4 - \sqrt{23}/4 + 19/2 = 23/4 - \sqrt{23}/4 (\approx 4,55); y_2 = 23/4 - \sqrt{23}/4 (\approx 6,95)$$

$$\mathbf{S}_1(4,95 | 4,55); \mathbf{S}_2(2,55 | 6,95)$$

Für den Weg mit der Koordinatentransformation ist  $x_S$  bekannt,  $x_S = (7/4)\sqrt{2} (\approx 2,475)$

Die Geometrie in dieser speziellen Anordnung ist  $\mathbf{M}_1(0|0)$ ,  $\mathbf{M}_2(d|0)$ .

Die Schnittgerade ist eine Parallele zur y-Achse.  $\rightarrow y_S$  durch Einsetzen von  $x_S$  in Kreis 1  $\rightarrow$

$$y_S^2 = 9 - 49/8 = 23/8 \rightarrow y_S = \pm \sqrt{23/8} (\approx 1,696)$$

$$\text{Verbindungsvektor } \mathbf{d} = \mathbf{m}_2 - \mathbf{m}_1 = \begin{pmatrix} 1 \\ 1 \end{pmatrix}$$

$$\text{Drehung (Speziell nach Orientierung Original): } \mathbf{D} \mathbf{s} = \frac{1}{d} \cdot \begin{pmatrix} d_x s_x - d_y s_y \\ d_y s_x + d_x s_y \end{pmatrix}$$

$$\mathbf{s}_1' = \frac{1}{\sqrt{2}} \cdot \begin{pmatrix} 1 \cdot 2,475 - 1 \cdot 1,696 \\ 1 \cdot 2,475 + 1 \cdot 1,696 \end{pmatrix} = \begin{pmatrix} 0,551 \\ 2,949 \end{pmatrix}; \mathbf{s}_2' = \begin{pmatrix} 2,949 \\ 0,551 \end{pmatrix};$$

$$\text{Verschiebung in Original-Ursprung: } \mathbf{s}(\text{Original}) = \mathbf{s}' + \mathbf{m}_1$$

$$\mathbf{s}_1 = \begin{pmatrix} 2,55 \\ 6,95 \end{pmatrix}; \mathbf{s}_2 = \begin{pmatrix} 4,95 \\ 4,55 \end{pmatrix}$$

(Vertauschung 1,2 durch Rechenweg, aber - wie erwartet - identische Schnittpunkte zum 1. Rechenweg.)

## 8)

### 1. Suche der Schnittpunkte

#### 1a. In Koordinaten-Formulierung

$$\text{Aus } \mathbf{M} \text{ und } \mathbf{P}: k = \Delta y / \Delta x = (-5 + 3) / (3 - 4) = 2$$

$$\text{Gerade für } \mathbf{P}: c = y - kx = 1 - 10 = -9$$

$$\text{Schnitt mit Kreis: } (x - 4)^2 + (2x - 9 + 3)^2 = 4 \rightarrow 5x^2 - 32x + 48 = 0 \rightarrow x = 4; 12/5$$

$$\mathbf{S}_1(4|-1), \mathbf{S}_2(12/5|-21/5)$$

#### 1b. In Vektorformulierung

$$\text{Richtungsvektor } \overline{\mathbf{MP}} = \begin{pmatrix} -1 \\ -2 \end{pmatrix}; \text{ Gerade durch } \mathbf{P}: g: \mathbf{x} = \lambda \begin{pmatrix} -1 \\ -2 \end{pmatrix} + \begin{pmatrix} 5 \\ 1 \end{pmatrix}$$

$$\text{Schnitt mit Kreis: } (\mathbf{x} - \mathbf{m})^2 = \left[ \lambda \begin{pmatrix} -1 \\ -2 \end{pmatrix} + \begin{pmatrix} 1 \\ 4 \end{pmatrix} \right]^2 \rightarrow 5\lambda^2 - 18\lambda + 17 = 4 \rightarrow \lambda_{1,2} = 1; 13/5$$

$$\mathbf{s}_1 = \begin{pmatrix} -1 + 5 \\ -2 + 1 \end{pmatrix} = \begin{pmatrix} 4 \\ -1 \end{pmatrix}; \mathbf{s}_2 = \begin{pmatrix} -13/5 + 5 \\ -26/5 + 1 \end{pmatrix} = \begin{pmatrix} 12/5 \\ -21/5 \end{pmatrix}$$

#### 2. Verbindungsvektoren Mittelpunkt - Schnittpunkt

$$\mathbf{v}_1 = \begin{pmatrix} 4 - 4 \\ -1 + 3 \end{pmatrix} = \begin{pmatrix} 0 \\ 2 \end{pmatrix}; \mathbf{v}_2 = \begin{pmatrix} 12/5 - 4 \\ -21/5 + 3 \end{pmatrix} = \begin{pmatrix} -8/5 \\ -6/5 \end{pmatrix} \text{ (evtl. Kontrolle: } |\mathbf{v}_1| = |\mathbf{v}_2| = r)$$

$$\text{Winkel dazwischen: } \cos(\alpha) = \mathbf{v}_1 \cdot \mathbf{v}_2 / r^2 = (-12/5) / 4 = -3/5 \rightarrow \alpha = 2,214 \text{ (rad)}$$

#### 3. Schnittfläche (Kreissegment)

$$A = r^2 [\alpha - \sin(\alpha)] / 2 = 2,83$$